

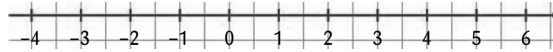
ACTIVITÉ

Le panneau ci-contre est affiché dans l'ascenseur d'un grand magasin.

- (a) À quel étage se situe le rez-de-chaussée? Quels rayons peut-on y trouver?
(b) Que trouve-t-on au dernier étage de ce magasin?
(c) Où se situe le rayon "papeterie"? Le rayon "bricolage"?
(d) Que trouve-t-on au dernier sous-sol de ce magasin?
(e) Quelle particularité ont les nombres qui désignent les niveaux du sous-sol?



- Reproduire la droite graduée ci-dessous, puis en vous aidant du panneau précédent, placer les rayons suivants du magasin : "restaurant"; "parfumerie et maroquinerie"; "parking"; "bricolage" et "linge de maison".




- (a) Quel rayon, entre "restaurant" et "linge de maison", se trouve le plus haut dans le magasin?
Compléter alors la phrase suivante : "6 4".
(b) Quel rayon, entre "habillement enfant" et "bricolage", se trouve le plus haut dans le magasin?
Compléter alors la phrase suivante : "3 -2".
(c) Quel rayon, entre "parking" et "alimentation", se trouve le plus haut dans le magasin?
Compléter alors la phrase suivante : "-1 -3".

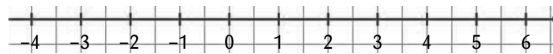
ACTIVITÉ

Le panneau ci-contre est affiché dans l'ascenseur d'un grand magasin.

- (a) À quel étage se situe le rez-de-chaussée? Quels rayons peut-on y trouver?
(b) Que trouve-t-on au dernier étage de ce magasin?
(c) Où se situe le rayon "papeterie"? Le rayon "bricolage"?
(d) Que trouve-t-on au dernier sous-sol de ce magasin?
(e) Quelle particularité ont les nombres qui désignent les niveaux du sous-sol?



- Reproduire la droite graduée ci-dessous, puis en vous aidant du panneau précédent, placer les rayons suivants du magasin : "restaurant"; "parfumerie et maroquinerie"; "parking"; "bricolage" et "linge de maison".



- (a) Quel rayon, entre "restaurant" et "linge de maison", se trouve le plus haut dans le magasin?
Compléter alors la phrase suivante : "6 4".
(b) Quel rayon, entre "habillement enfant" et "bricolage", se trouve le plus haut dans le magasin?
Compléter alors la phrase suivante : "3 -2".
(c) Quel rayon, entre "parking" et "alimentation", se trouve le plus haut dans le magasin?
Compléter alors la phrase suivante : "-1 -3".

ACTIVITÉ

Le panneau ci-contre est affiché dans l'ascenseur d'un grand magasin.

- (a) À quel étage se situe le rez-de-chaussée? Quels rayons peut-on y trouver?
(b) Que trouve-t-on au dernier étage de ce magasin?
(c) Où se situe le rayon "papeterie"? Le rayon "bricolage"?
(d) Que trouve-t-on au dernier sous-sol de ce magasin?
(e) Quelle particularité ont les nombres qui désignent les niveaux du sous-sol?



- Reproduire la droite graduée ci-dessous, puis en vous aidant du panneau précédent, placer les rayons suivants du magasin : "restaurant"; "parfumerie et maroquinerie"; "parking"; "bricolage" et "linge de maison".



- (a) Quel rayon, entre "restaurant" et "linge de maison", se trouve le plus haut dans le magasin?
Compléter alors la phrase suivante : "6 4".
(b) Quel rayon, entre "habillement enfant" et "bricolage", se trouve le plus haut dans le magasin?
Compléter alors la phrase suivante : "3 -2".
(c) Quel rayon, entre "parking" et "alimentation", se trouve le plus haut dans le magasin?
Compléter alors la phrase suivante : "-1 -3".